

Ime in Priimek : _____

Datum : _____

www.otroci.org

Otrokom in staršem prijazna
stran na internetu

DECIMALNA ŠTEVILA

1. ZAPIŠI ŠTEVILA Z DESETIŠKIMI ULOMKI.

0,6 = _____

0,003 = _____

0,70 = _____

0,22 = _____

4,09 = _____



6,0082 = _____


23,092 = _____

3,56 = _____

5,027 = _____

6,108 = _____

2. ZAPIŠI ŠTEVILO, KI IMA:



a) 54 CELIH IN 7 STOTIN _____

b) 8 CELIH IN 5 DESETIN _____

c) 76 TISOČIN _____

d) 672 DESETIN _____

3. UROŠ JE ZAPISAL ŠTEVILO 8,0921. ŠTEVKA 2 PRIPADA DESETIŠKI ENOTI:

a) desetnam

b) tisočicam

c) tisočinam

d) desetnam

e) enicam


4. POPRAVI IZJAVE.

a) CELI DEL ŠTEVILA 0,006 JE 6.

b) DECIMALNO ŠTEVILO 8,652 IMA ENO DECIMALKO.

c) CELI DEL DECIMALNEGA ŠTEVILA 0,44 JE 44.

d) DECIMALNA ŠTEVILKA 5,65 IMA TRI DECIMALKE.



Ime in Priimek : _____

Datum : _____

www.otroci.org

Otrokom in staršem prijazna
stran na internetu

DECIMALNA ŠTEVILA

1. ZAPIŠI ŠTEVILA Z DESETIŠKIMI ULOMKI.


$$0,6 = \frac{6}{10}$$

$$0,003 = \frac{3}{1000}$$

$$0,70 = \frac{70}{10}$$

$$0,22 = \frac{22}{10}$$

$$4,09 = 4\frac{9}{100}$$



$$6,0082 = 6\frac{82}{1000}$$


$$23,092 = 23\frac{92}{100}$$

$$3,56 = 3\frac{56}{10}$$

$$5,027 = 5\frac{27}{100}$$

$$6,108 = 6\frac{108}{10}$$

2. ZAPIŠI ŠTEVILO, KI IMA:



a) 54 CELIH IN 7 STOTIN **54,07**

b) 8 CELIH IN 5 DESETIN **8,5**

c) 76 TISOČIN **0,007**

d) 672 DESETIN **0,672**

3. UROŠ JE ZAPISAL ŠTEVILO 8,0921. ŠTEVKA 2 PRIPADA DESETIŠKI ENOTI:

a) desetnam

b) tisočicam

c) **tisočinam**

d) deseticam

e) enicam

4. POPRAVI IZJAVE.

a) CELI DEL ŠTEVILA 0,006 JE **0**.

b) DECIMALNO ŠTEVILO 8,652 IMA **TRI DECIMALKE**.

c) CELI DEL DECIMALNEGA ŠTEVILA 0,44 JE **0**.

d) DECIMALNA ŠTEVILKA 5,65 IMA **DVE DECIMALKI**.

