

Ime in Priimek : _____


Datum : _____

www.otroci.org

Otrokom in staršem prijazna
stran na internetu

MERIMO ČAS

1. POPRAVI, KAR NI PRAV.



Šolska ura je dolga 45 ur.

Zemlja obkroži Sonce v eni uri.

Mesec ima 30 dni.

Za domačo nalogo porabim pol minute.

Teden ima 7 sekund.

Leto ima 12 dni.

2. ANJA SE JE RODILA 10. MAJA 2000. KO JE ŠLA V VRTEC, JE BILA STARA 1 LETO IN 4 MESECE.

a) Koliko mesecev je bila takrat stara Anja? _____

b) Koliko dni je bila takrat stara? _____


c) Koliko mesecev je bila stara 10. decembra 2005? _____

3. KOLIKO ČASA POTREBUJE ZA ŠTIRI OBHODE:

a) minutni kazalec _____

b) urni kazalec _____

c) sekundni kazalec _____



4. ANDREJ S KOLESOM DO SLUŽBE POTREBUJE TRI ČETRT URE, Z AVTOM PA DESET MINUT.

a) Koliko prej pride, če gre v službo z avtom? _____

b) Kdaj mora iti od doma, če začne delati ob 7.30 in gre v službo s kolesom? _____

c) Kdaj mora iti od doma, če začne delati ob 7.30 in gre v službo z avtom? _____

Ime in Priimek : _____


Datum : _____

www.otroci.org

Otrokom in staršem prijazna
stran na internetu

MERIMO ČAS

1. POPRAVI, KAR NI PRAV.




- Šolska ura je dolga 45 **minut**.
- Zemlja obkroži Sonce v **enem letu**.
- Mesec ima 30 dni.
- Za domačo nalogo porabim pol **ure**.
- Teden ima 7 **dni**.
- Leto ima 12 **mesecev**.

2. ANJA SE JE RODILA 10. MAJA 2000. KO JE ŠLA V VRTEC, JE BILA STARA 1 LETO IN 4 MESECE.

- a) Koliko mesecev je bila takrat stara Anja? **16 mesecev**
- b) Koliko dni je bila takrat stara? **480 dni**
- c) Koliko mesecev je bila stara 10. decembra 2005? **67 mesecev**

3. KOLIKO ČASA POTREBUJE ZA ŠTIRI OBHODE:

- a) minutni kazalec **4 minute**
- b) urni kazalec **4 ure**
- c) sekundni kazalec **4 sekunde**



4. ANDREJ S KOLESOM DO SLUŽBE POTREBUJE TRI ČETRT URE, Z AVTOM PA DESET MINUT.

- a) Koliko prej pride, če gre v službo z avtom? **35 minut**
- b) Kdaj mora iti od doma, če začne delati ob 7.30 in gre v službo s kolesom? **ob 6.45**
- c) Kdaj mora iti od doma, če začne delati ob 7.30 in gre v službo z avtom? **ob 7.20**