

Ime in Priimek : \_\_\_\_\_

Datum : \_\_\_\_\_

**www.otroci.org**

Otrokom in staršem prijazna  
stran na internetu

## **NEENAČBE**

1. PREBERI BESEILO IN ZAPIŠI NEENAČBO. NEENAČBO TUDI REŠI.

Število  $a$  je manjše od 8.

Število  $m$  je manjše ali enako 5.

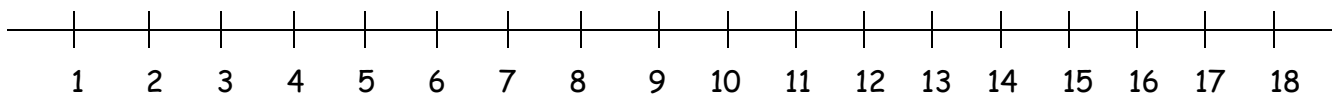
Število  $y$  je večje ali enako 15.

Število  $n$  je večje od 56.

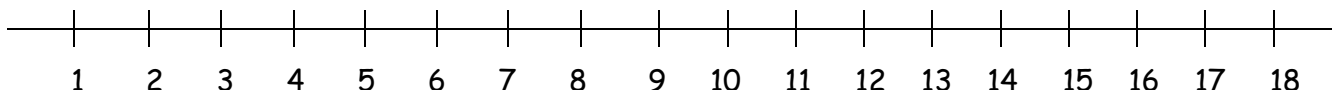


2. NA ŠTEVILSKEM TRAKU OZNAČI ŠTEVILA, ZA KATERA DANA NEENAČBA VELJA.

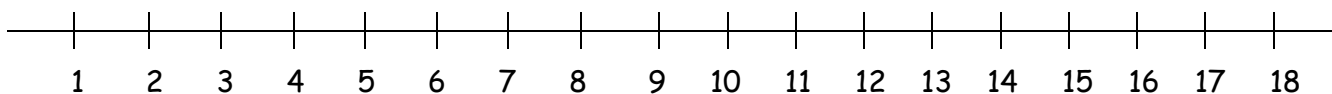
a)  $a > 4$



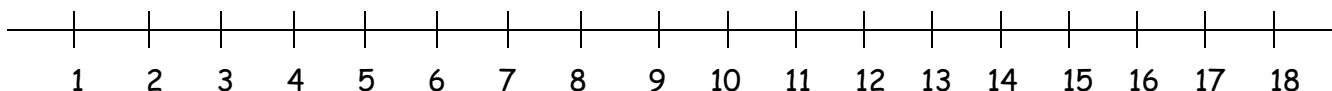
b)  $a < 9$



c)  $a > 7$  in  $a < 15$



d)  $a > 6$  in  $a < 18$



Ime in Priimek : \_\_\_\_\_

Datum : \_\_\_\_\_

**www.otroci.org**

Otrokom in staršem prijazna  
stran na internetu

## NEENAČBE

1. PREBERI BESEILO IN ZAPIŠI NEENAČBO. NEENAČBO TUDI REŠI.

Število  $a$  je manjše od 8.

$$a < 8$$

$$a = 1, 2, 3, 4, 5, 6, 7$$

Število  $m$  je manjše ali enako 5.

$$m \leq 5$$

$$m = 1, 2, 3, 4, 5$$

Število  $y$  je večje ali enako 15.

$$y \geq 15$$

$$a = 15, 16, 17, 18, 19, 20, 21...$$

Število  $n$  je večje od 56.

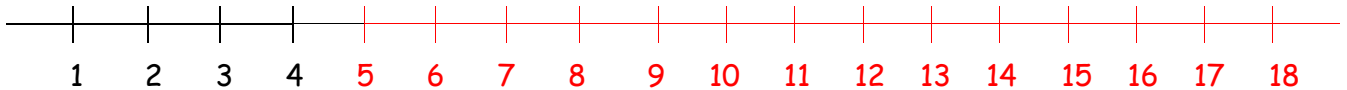
$$n > 56$$

$$n = 57, 58, 59, 60, 61, 62...$$

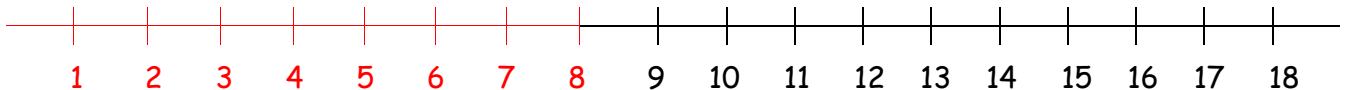


2. NA ŠTEVILSKEM TRAKU OZNAČI ŠTEVILA, ZA KATERA DANA NEENAČBA VELJA.

a)  $a > 4$



b)  $a < 9$



c)  $a > 7$  in  $a < 15$



d)  $a > 6$  in  $a < 18$

