

Ime in Priimek : _____

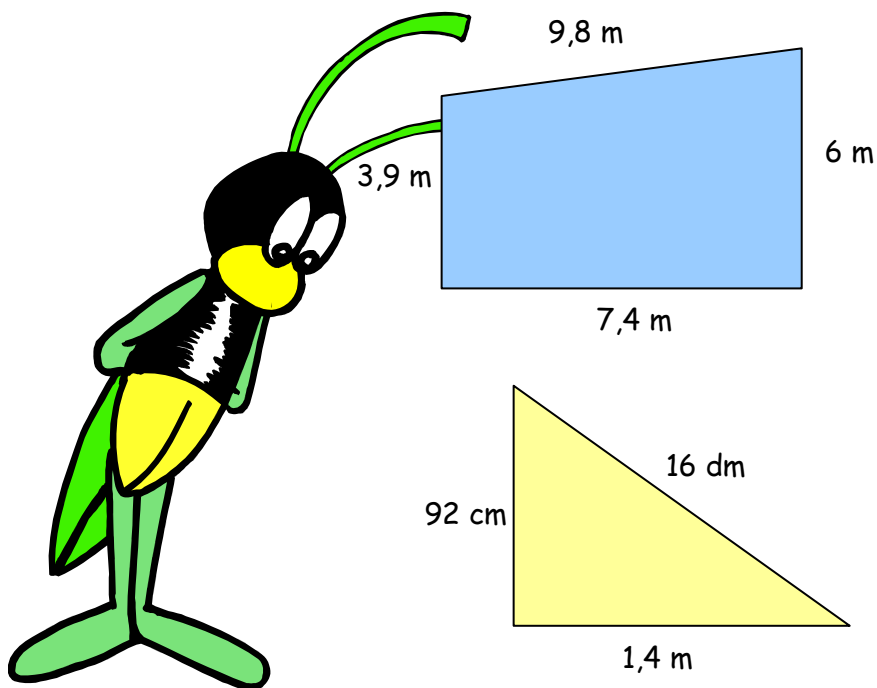
Datum : _____

www.otroci.org

Otrokom in staršem prijazna
stran na internetu

OBSEG

1. IZRAČUNAJ OBSEG NARISANEGA LIKA IN REZULTAT ZAOKROŽI V METRIH.



2. IZRAČUNAJ OBSEG PRAVOKOTNIKA, ČE POZNAŠ DOLŽINO STRANIC.

a) $a = 16 \text{ m}$, $b = 9 \text{ m}$

b) $a = 3,8 \text{ dm}$, $b = 2,7 \text{ dm}$

c) $a = 4,9 \text{ m}$, $b = 36 \text{ cm}$



Ime in Priimek : _____

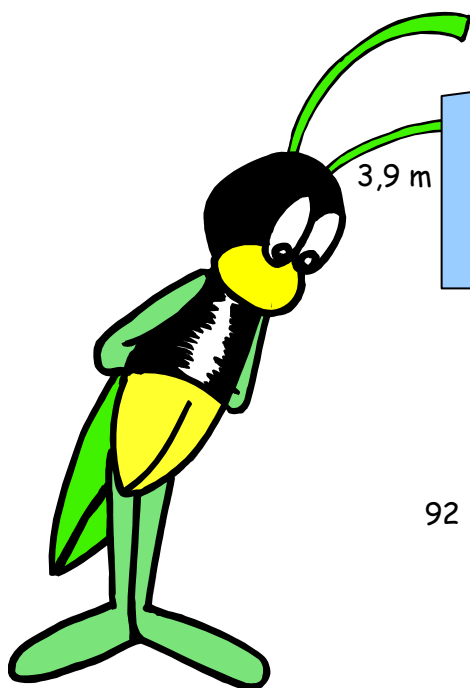
Datum : _____

www.otroci.org

Otrokom in staršem prijazna
stran na internetu

OBSEG

1. IZRAČUNAJ OBSEG NARISANEGA LIKA IN REZULTAT ZAOKROŽI V METRIH.



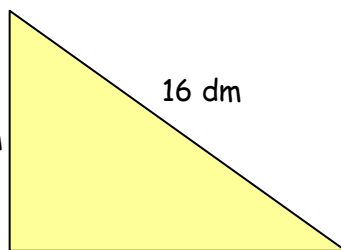
9,8 m

6 m

3,9 m

7,4 m

$$o = 271 \text{ dm} = 27 \text{ m}$$



16 dm

92 cm

1,4 m

$$o = 392 \text{ cm} = 4 \text{ m}$$

2. IZRAČUNAJ OBSEG PRAVOKOTNIKA, ČE POZNAŠ DOLŽINO STRANIC.

a) $a = 16 \text{ m}$, $b = 9 \text{ m}$

$$o = 50 \text{ m}$$

b) $a = 3,8 \text{ dm}$, $b = 2,7 \text{ dm}$

$$o = 130 \text{ cm} = 13 \text{ dm}$$

c) $a = 4,9 \text{ m}$, $b = 36 \text{ cm}$

$$o = 1052 \text{ cm} = 10,52 \text{ m}$$

