

Ime in Priimek : _____

Datum : _____

www.otroci.org

Otrokom in staršem prijazna
stran na internetu

VELIKOSTNI ODNOSI

1. VSTAVI <, >, =.

$4 \bigcirc 8 + 2$

$7 \bigcirc 5 + 1$

$2 + 1 \bigcirc 3$

$6 \bigcirc 2 + 2$

$3 \bigcirc 4 + 4$

$5 \bigcirc 1 + 3$

$5 + 2 \bigcirc 10$

$3 + 1 \bigcirc 8$

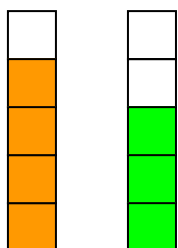
$6 + 2 \bigcirc 9$

$4 + 1 \bigcirc 5$

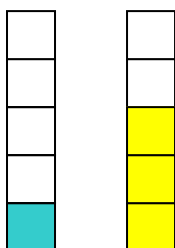
$8 + 2 \bigcirc 4$

$10 \bigcirc 4 + 3$

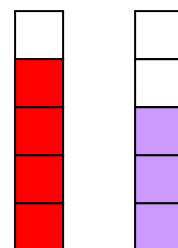
2. PREŠTEJ POBARVANE KVADRATKE V STOLPCIH. ZAPIŠI S ŠTEVILKO IN VPIŠI USTREZEN ZNAK <, >, =.



— —



— —



— —

3. IZPOLNI TABELO.

PREDHODNIK	5			3			1				4	
ŠTEVILO		6				4		3		7		3
NASLEDNIK			9		10				8			

REŠITVE

1. VSTAVI <, >, =.

$4 < 8 + 2$

$7 > 5 + 1$

$2 + 1 = 3$

$6 > 2 + 2$

$3 < 4 + 4$

$5 > 1 + 3$

$5 + 2 > 10$

$3 + 1 < 8$

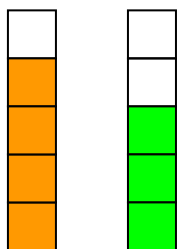
$6 + 2 < 9$

$4 + 1 = 5$

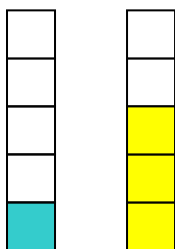
$8 + 2 > 4$

$10 > 4 + 3$

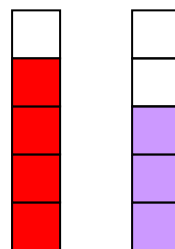
2. PREŠTEJ POBARVANE KVADRATKE V STOLPCIH. ZAPIŠI S ŠTEVILKO IN VPIŠI USTREZEN ZNAK <, >, =.



$4 > 3$



$1 < 3$



$4 > 3$

2. IZPOLNI TABELO.

PREDHODNIK	5	5	7	3	8	3	1	2	6	6	4	2
ŠTEVILO	6	6	8	4	9	4	2	3	7	7	5	3
NASLEDNIK	7	7	9	5	10	5	3	4	8	8	6	4