

Ime in Priimek : _____


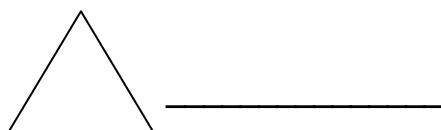

Datum : _____

www.otroci.org

Otrokom in staršem prijazna
stran na internetu

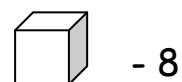
GEOMETRIJA

1. NA ČRTO ZAPIŠI IME LIKA.

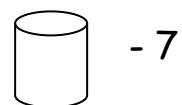


2. S POMOČJO SLIKE ODGOVORI NA VPRAŠANJA.

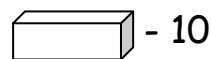
KATERIH TELES JE NAJVEČ? _____



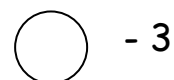
KATERIH TELES JE NAJMANJ? _____



KOLIKO JE KOCK IN KVADROV SKUPAJ? _____



KOLIKO JE VALJEV IN KROGEL SKUPAJ? _____



3. NESKLENJENE ČRTE SKLENI!

