

Ime in Priimek : _____


Datum : _____

www.otroci.org

Otrokom in staršem prijazna
stran na internetu


GEOMETRIJA

1. Na črto zapiši ime lika.










2. S pomočjo slike odgovori na vprašanja.

Katerih teles je največ? _____




- 8

Katerih teles je najmanj? _____



- 7

Koliko je kock in kvadrov skupaj? _____



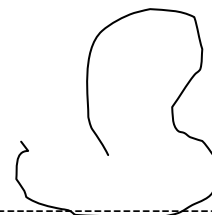
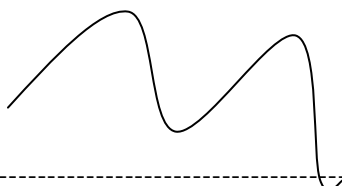
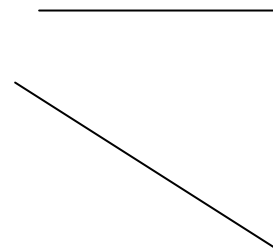

- 10

Koliko je valjev in krogel skupaj? _____



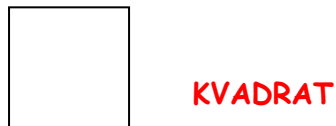
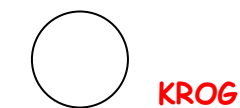
- 3

3. Nesklenjene črte skleni!



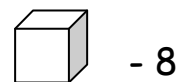
REŠITVE

1. Na črto zapiši ime lika.

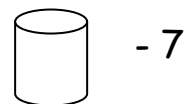


2. S pomočjo slike odgovori na vprašanja.

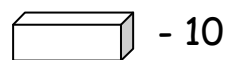
Katerih teles je največ? **Kvatrov**



Katerih teles je najmanj? **Krogel**



Koliko je kock in kvatrov skupaj? **18**



Koliko je valjev in krogel skupaj? **10**



3. Nesklenjene črte skleni!

