

Ime in Priimek : \_\_\_\_\_

Datum : \_\_\_\_\_

**www.otroci.org**

Otrokom in staršem prijazna  
stran na internetu

## DESETIŠKI ULOMKI 1

### 1. POIMENUJ EN DEL CELOTE, ČE JO RAZDELIMO NA

- 10 enakih delov \_\_\_\_\_
- 100 enakih delov \_\_\_\_\_
- 1000 enakih delov \_\_\_\_\_
- 10 000 enakih delov \_\_\_\_\_



### 2. OBKROŽI DESETIŠKE ULOMKE.

$$\frac{31}{9}$$

$$\frac{736}{1000}$$

$$\frac{9}{10}$$

$$6\frac{4}{100}$$

$$3\frac{1}{33}$$

$$\frac{3}{100}$$


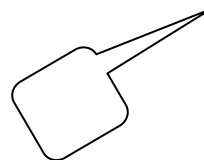
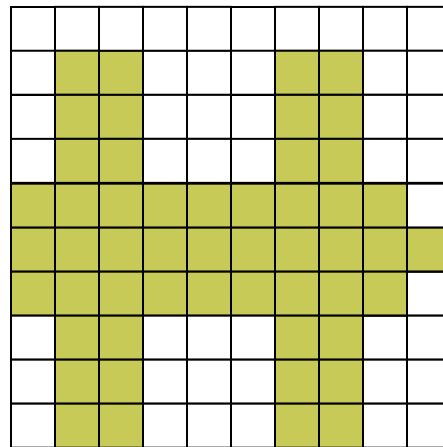

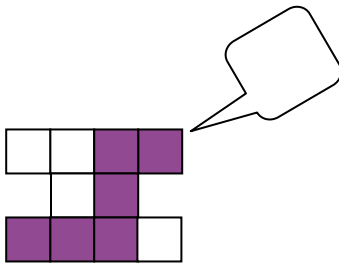
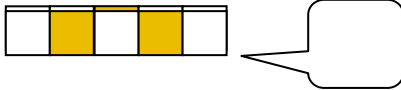
$$7\frac{5}{11}$$

$$\frac{12}{23}$$

$$2\frac{80}{10^2}$$

$$\frac{3}{7}$$

### 3. KATERE DESETIŠKE ULOMKE PREDSTAVLJA POBARVANI DEL LIKA OZIROMA TELESA?



VSEH 100 UČNIH LISTOV IZ PREDMETA MATEMATIKA ZA 6. RAZRED, SKUPAJ Z ODGOVORI,  
VAM JE NA VOLJO V NAŠI TRGOVINI. ZA NAROČILO OBIŠČITE <http://trgovina.otroci.org>