

Ime in Priimek : _____

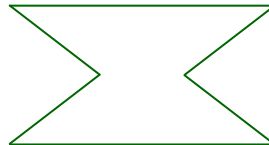

Datum : _____

www.otroci.org

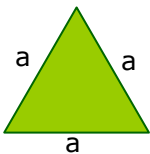
Otrokom in staršem prijazna
stran na internetu

OBSEG

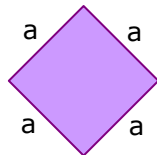
1. Izmeri stranice in izračunaj obsege likov.



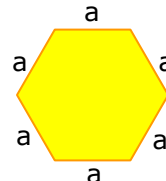
2. Izračunaj obsege enakostraničnih likov.



$a = 2 \text{ cm } 3 \text{ mm}$

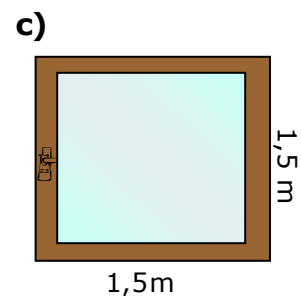
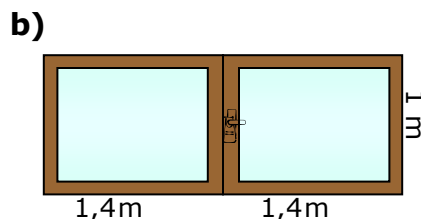
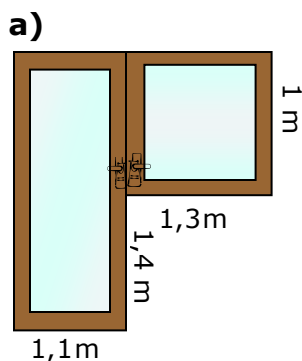


$a = 8,2 \text{ dm}$



$a = 51 \text{ mm}$

3. Pleskarji so pred pleskanjem zaščitili robove okenskih okvirjev z lepilnimi trakovi. Za katero okno so porabili najmanj lepilnega traku? Dokaži.



VSEH 100 UČNIH LISTOV IZ PREDMETA MATEMATIKA ZA 6. RAZRED, SKUPAJ Z ODGOVORI, VAM JE NA VOLJO V NAŠI TRGOVINI. ZA NAROČILO OBIŠČITE <http://trgovina.otroci.org>
