

Ime in Priimek : _____

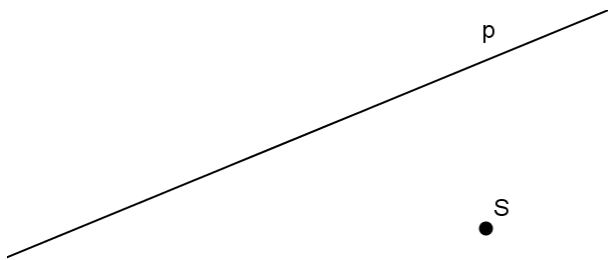
Datum : _____

www.otroci.org

Otrokom in staršem prijazna
stran na internetu

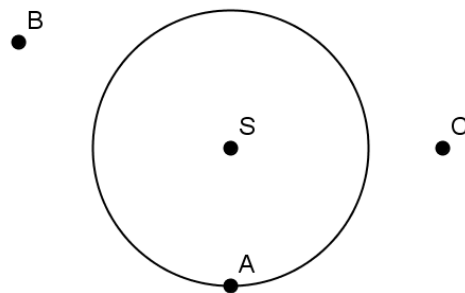
KROŽNICA IN PREMICA

1. Dani sta premica p in točka S . Nariši krožnico s središčem v točki S tako, da bosta imeli krožnica in premica eno skupno točko.

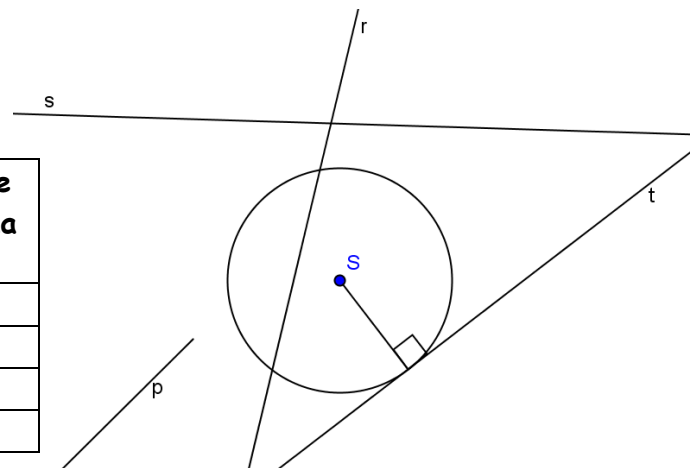


Poimenuj premico p glede na krožnico.

2. Skozi točko A nariši tangento na krožnico, skozi B mimobežnico in skozi C sekanto. Krajišča nastale tetive označi s točkama F in G .



3. Izpolni tabelo s pomočjo slike.



premica	Število skupnih točk premice in krožnice	Kako se imenuje premica glede na krožnico?
p		
		sekanta
	Ena skupna točka	

VSEH 100 UČNIH LISTOV IZ PREDMETA MATEMATIKA ZA 7. RAZRED, SKUPAJ Z ODGOVORI, VAM JE NA VOLJO V NAŠI TRGOVINI. ZA NAROČILO OBIŠČITE <http://trgovina.otroci.org>

Ime in Priimek : _____

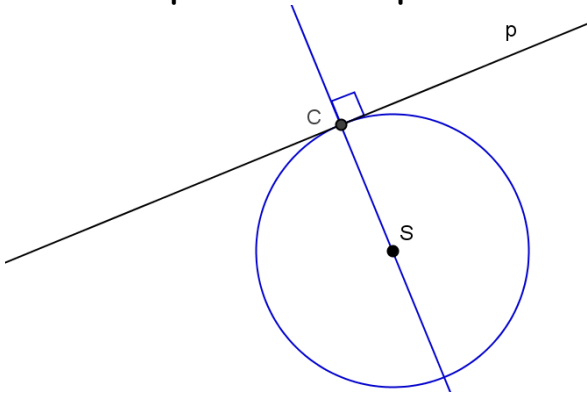
Datum : _____

www.otroci.org

Otrokom in staršem prijazna stran na internetu

KROŽNICA IN PREMICA - REŠITVE

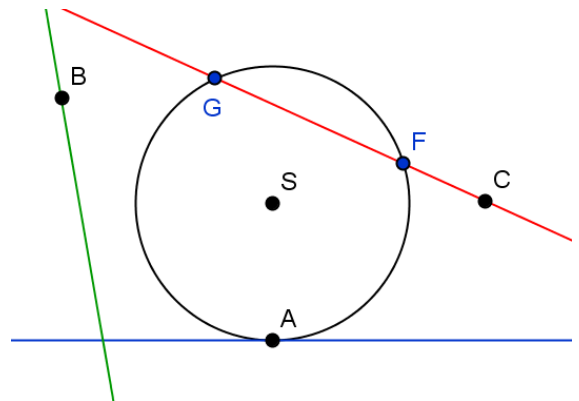
1. Dani sta premica p in točka S . Nariši krožnico s središčem v točki S tako, da bosta imeli krožnica in premica eno skupno točko.



Poimenuj premico p glede na krožnico.

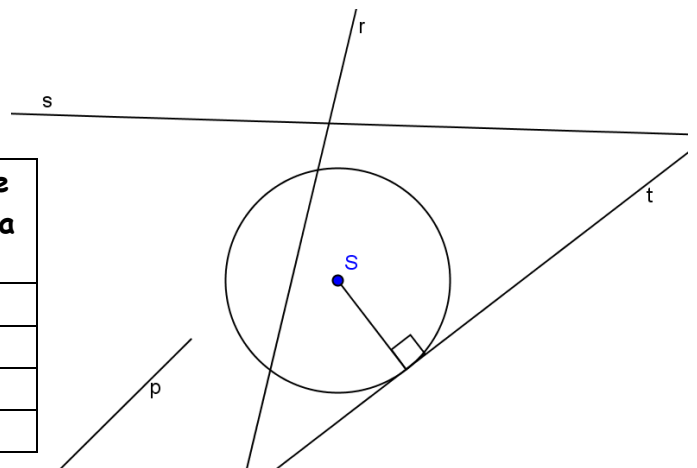
tangenta oz. dotikalnica

2. Skozi točko A nariši tangento na krožnico, skozi B mimobežnico in skozi C sekanto. Krajišča nastale tetive označi s točkama F in G .



3. Izpolni tabelo s pomočjo slike.

premica	Število skupnih točk premice in krožnice	Kako se imenuje premica glede na krožnico?
p	2	sekanta
r	2	sekanta
t	Ena skupna točka	tangenta
s	0	mimobežnica



VSEH 100 UČNIH LISTOV IZ PREDMETA MATEMATIKA ZA 7. RAZRED, SKUPAJ Z ODGOVORI, VAM JE NA VOLJO V NAŠI TRGOVINI. ZA NAROČILO OBIŠČITE <http://trgovina.otroci.org>