

Ime in Priimek : \_\_\_\_\_

Datum : \_\_\_\_\_

**www.otroci.org**

Otrokom in staršem prijazna  
stran na internetu

## **PITAGOROV IZREK 1**

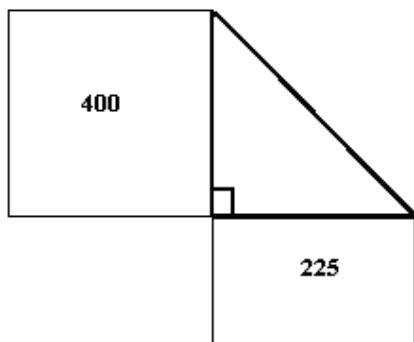
1. PLOŠČINA KVADRATA NAD HIPOTENUZO PRAVOKOTNEGA TRIKOTNIKA MERI  $9,5\text{cm}^2$ , PLOŠČINA KVADRATA NAD ENO KATETO PA  $6\text{cm}^2$ . KOLIKŠNA JE PLOŠČINA KVADRATA NAD DRUGO KATETO?

Račun: \_\_\_\_\_

Odgovor: Ploščina kvadrata nad drugo kateto je \_\_\_\_\_

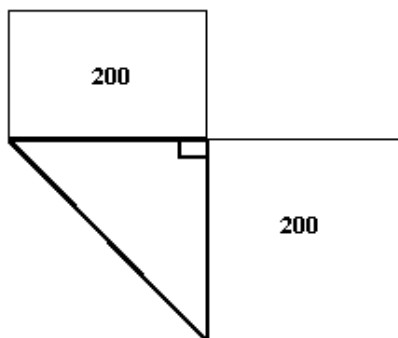
2. IZRAČUNAJ NEZNANO STRANICO PRAVOKOTNEGA TRIKOTNIKA.

a)



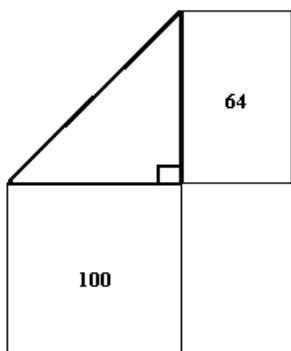
\_\_\_\_\_

b)



\_\_\_\_\_

c)



\_\_\_\_\_