

Ime in Priimek : \_\_\_\_\_

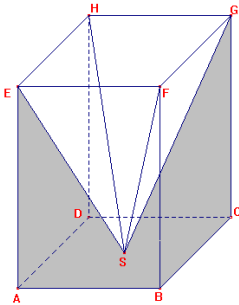
Datum : \_\_\_\_\_

**www.otroci.org**

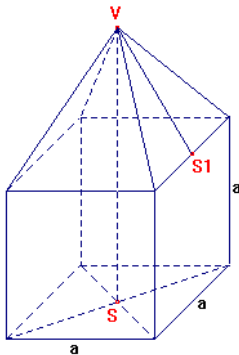
Otrokom in staršem prijazna  
stran na internetu

## **SESTAVLJENA TELES**

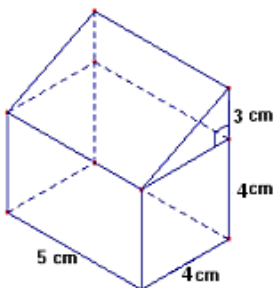
1. Iz pravilne štiristrane prizme z osnovnim robom  $10\text{ cm}$  in višino  $12\text{ cm}$  izrežemo piramido kot kaže slika (telesi imata enako osnovno ploskev in višino. Izračunaj površino in prostornino nastalega telesa.



2. Na kocko postavimo pravilno štiristrano prizmo z enakim osnovnim robom, ki meri  $6\text{ cm}$  in višino  $4\text{ cm}$ . Izračunaj površino in prostornino nastalega telesa.



3. Izračunaj površino in prostornino sestavljenega telesa na sliki.



\*\*\*\*\*

**VSEH 100 UČNIH LISTOV IZ PREDMETA MATEMATIKA ZA 9. RAZRED, SKUPAJ Z ODGOVORI, VAM JE NA VOLJO V NAŠI TRGOVINI. ZA NAROČILO OBIŠČITE <http://trgovina.otroci.org>**

\*\*\*\*\*