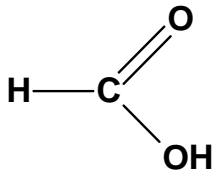


Ime in priimek : _____

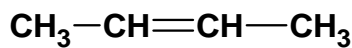
Datum : _____

UTRJEVANJE 3

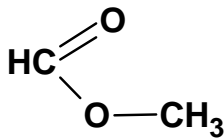
1. Slika prikazuje racionalne formule organskih spojin. Poveži racionalne formule z vrsto spojin tako, da zraven vrste spojin napišeš ustrezno številko.



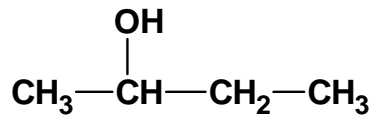
1



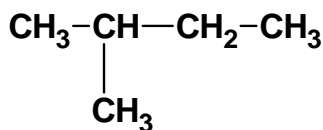
2



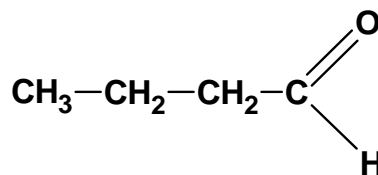
3



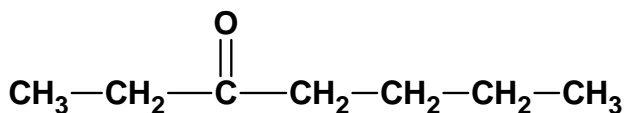
4



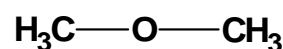
5



6



7



8

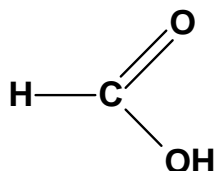
- | | |
|-----|---------------------|
| ___ | alkan |
| ___ | alken |
| ___ | alkohol |
| ___ | aldehid |
| ___ | keton |
| ___ | karboksilna kislina |
| ___ | ester |
| ___ | eter |

Ime in priimek : _____

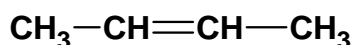
Datum : _____

UTRJEVANJE 3 – rešitve

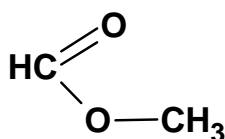
1. Slika prikazuje racionalne formule organskih spojin. Poveži racionalne formule z vrsto spojin tako, da zraven vrste spojin napišeš ustrezno številko.



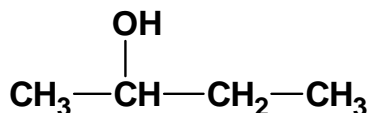
1



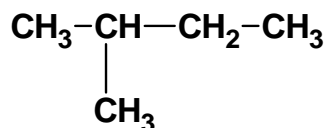
2



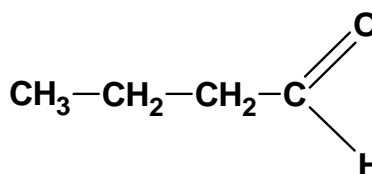
3



4



5



6

5	alkan
2	alken
4	alkohol
6	aldehid
7	keton
1	karboksilna kislina
3	ester
8	eter

Vseh 100 učnih listov iz predmeta Kemija za 9. razred, skupaj z odgovori, vam je na voljo v naši trgovini. Za naročilo obiščite <http://trgovina.otroci.org>
